

Prénom :	Date :
----------	--------



L'angle droit

Observe les figures ci-dessous, et dis à ton ami Gus si elles ont des angles droits et combien



Non

Si oui : Combien ?.....



Non

Si oui : Combien ?.....




Non

Si oui : Combien ?.....



Non

Si oui : Combien ?.....




Non

Si oui : Combien ?

CORRECTION




L'angle droit



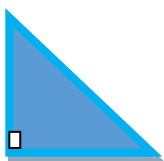
Non




Oui 4



Non



Oui 1



Non