



Prénom :	Date :
----------	--------





Multiplications en lignes


Ton ami Gus te propose d'effectuer les multiplications en lignes suivantes


 $20 \times 3 = \dots\dots\dots$


 $18 \times 2 = \dots\dots\dots$


 $33 \times 4 = \dots\dots\dots$

 $40 \times 5 = \dots\dots\dots$

 $61 \times 6 = \dots\dots\dots$

 $12 \times 7 = \dots\dots\dots$

 $50 \times 9 = \dots\dots\dots$

 $26 \times 8 = \dots\dots\dots$

CORRECTION



Multiplications en lignes

$$\text{⌚} \quad 20 \times 3 = 60$$

$$\text{⌚} \quad 18 \times 2 = 36$$

$$\text{⌚} \quad 33 \times 4 = 132$$

$$\text{⌚} \quad 40 \times 5 = 200$$

$$\text{⌚} \quad 61 \times 6 = 366$$

$$\text{⌚} \quad 12 \times 7 = 84$$

$$\text{⌚} \quad 50 \times 9 = 450$$

$$\text{⌚} \quad 26 \times 8 = 208$$