

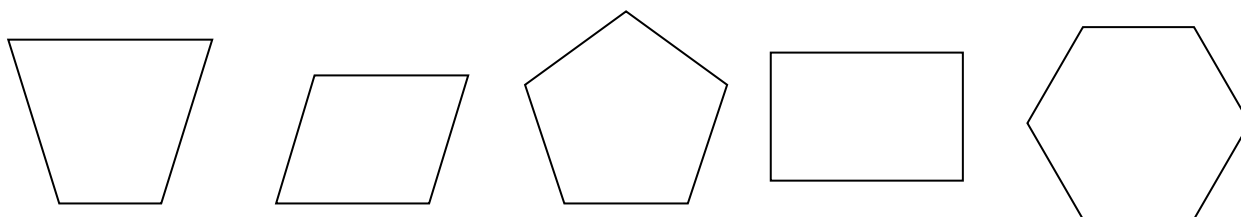
Prénom :	Date :
----------	--------



Les quadrilatères

Ton ami Gus te propose de jouer avec les formes.

1/ Parmi ces formes, quels sont les quadrilatères ? Marque les d'une croix.



2/ Observe la figure ci-dessous.



Elle a 4 côtés égaux : VRAI – FAUX

Ses côtés opposés sont parallèles : VRAI-FAUX

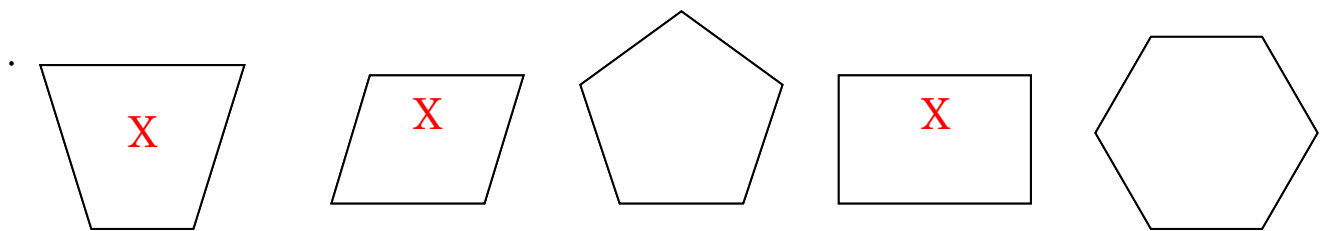
Elle a 4 angles droits : VRAI-FAUX

CORRECTION




Les quadrilatères

1/



2/



Elle a 4 côtés égaux : **FAUX**

Ses côtés opposés sont parallèles : **VRAI**

Elle a 4 angles droits : **VRAI**