

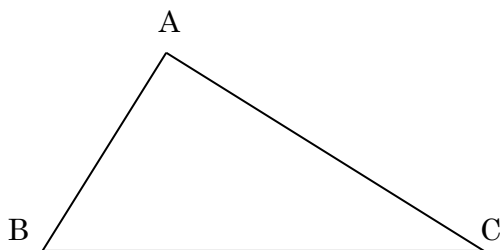
Prénom :	Date :
----------	--------



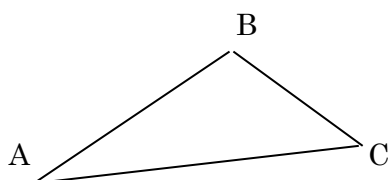
## La hauteur du triangle

Ton ami Gus te propose de tracer la hauteur dans les triangles suivants. A toi !

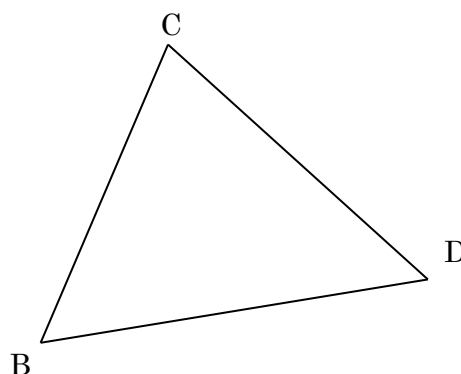
1/ Dans le triangle suivant, trace la hauteur du côté « BC » :



2/ Trace la hauteur du côté « AC »



3/ Trace la hauteur du côté « CD » :



# CORRECTION



La hauteur du triangle

