

Prénom :

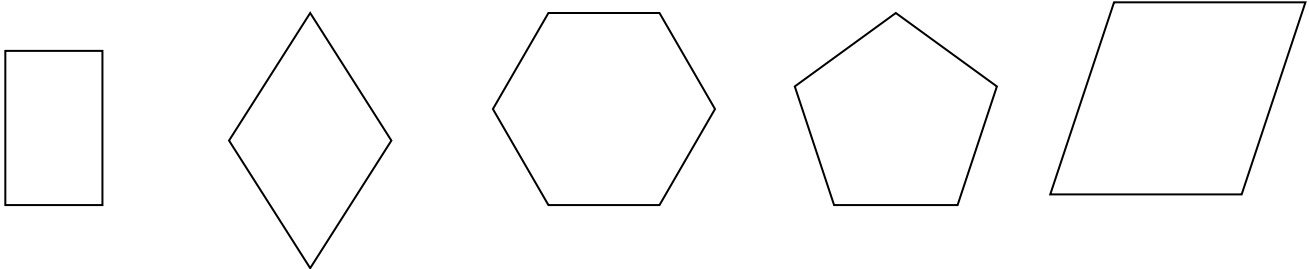
Date :




Les quadrilatères

Ton ami Gus te propose de jouer avec les formes.

1/ Parmi ces formes, quels sont les quadrilatères ? Marque-les d'une croix.



2/ Observe la figure ci-dessous.



Elle a 4 côtés égaux ? VRAI - FAUX

Elle a 4 angles droits ? VRAI - FAUX

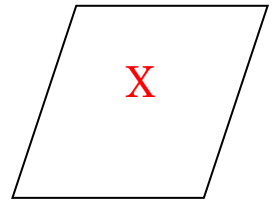
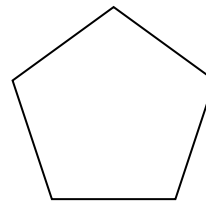
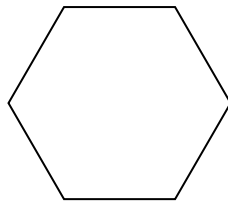
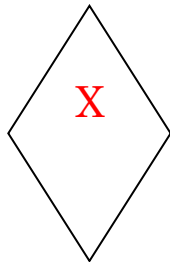
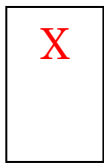
Elle a 2 cotés plus petits? VRAI - FAUX

CORRECTION

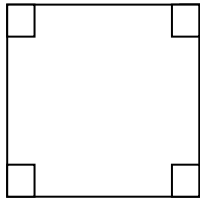


Les quadrilatères

1/



2/



Elle a 4 côtés égaux ? **VRAI**

Elle a 4 angles droits ? **VRAI**

Elle a 2 cotés plus petits ? **FAUX**