

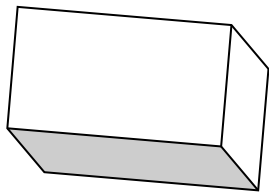
Prénom :	Date :
----------	--------



Volume du pavé droit

Ton ami Gus a dessiné des pavés droits. Peux-tu calculer leur volume ?

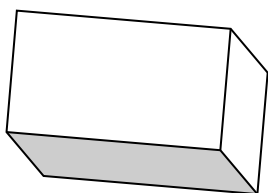
1/



Ce pavé fait 15 cm de longueur, 7 cm de largeur et 8 cm de hauteur. Son volume est ?

.....

2/



Ce pavé fait 20 cm de longueur, 12 cm de largeur et 10 cm de hauteur. Son volume est ?

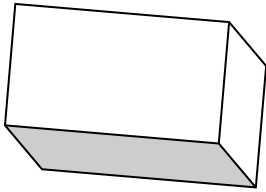
.....

CORRECTION



Volume du pavé droit

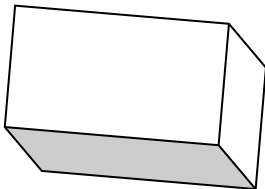
1/



$$15 \times 7 = 105$$

$$105 \times 8 = 840 \text{ cm}^3$$

2/



$$20 \times 12 = 240$$

$$240 \times 10 = 2400 \text{ cm}^3$$